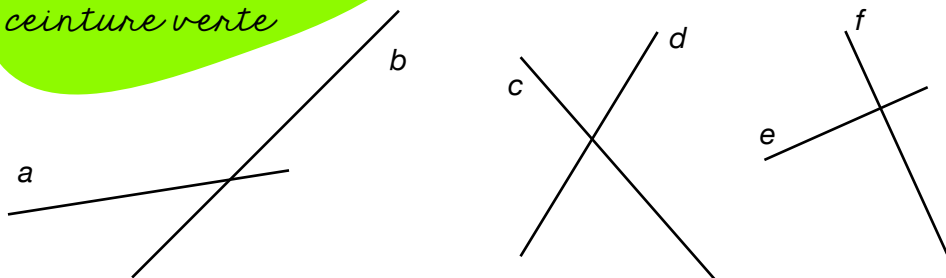


Géométrie

1a

Entraînement
ceinture verte



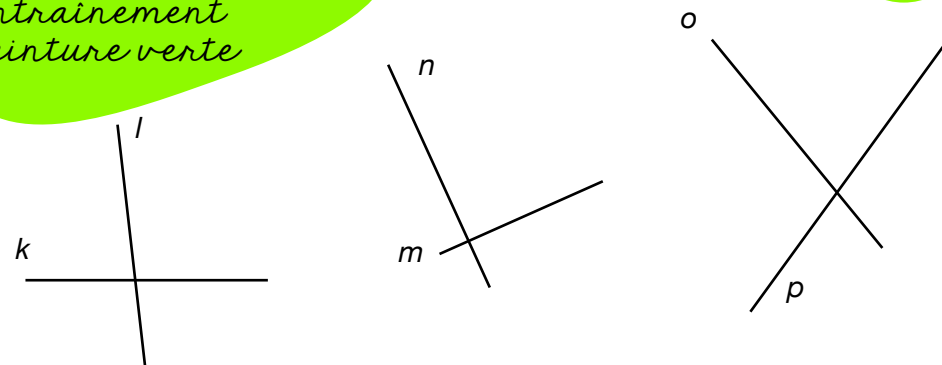
Observe ces angles et cherche les angles droits. Ensuite, complète la phrase.

Les droites ♦ et ♦ sont perpendiculaires.

Géométrie

1b

Entraînement
ceinture verte




Observe ces angles et cherche les angles droits. Ensuite, complète la phrase.

Les droites ♦ et ♦ sont perpendiculaires.

Géométrie

1c

Entraînement
ceinture verte



Observe ces figures et complète les phrases.

La figure A a ♦ angle... droit....

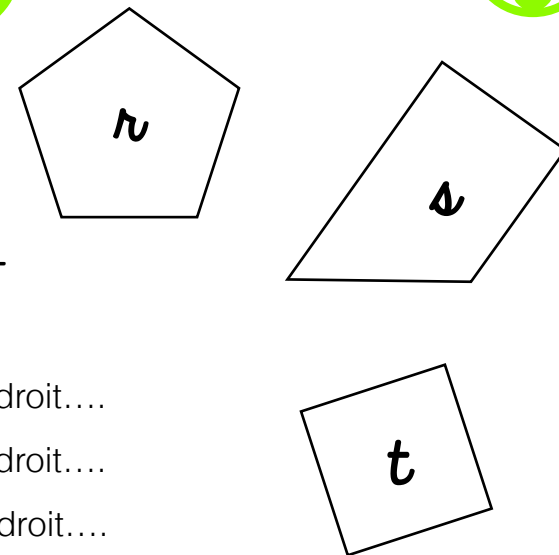
La figure B a ♦ angle... droit....

La figure C a ♦ angle... droit....

Géométrie

1d

Entraînement
ceinture verte



Observe ces figures et complète les phrases.

La figure A a ♦ angle... droit....

La figure B a ♦ angle... droit....

La figure C a ♦ angle... droit....

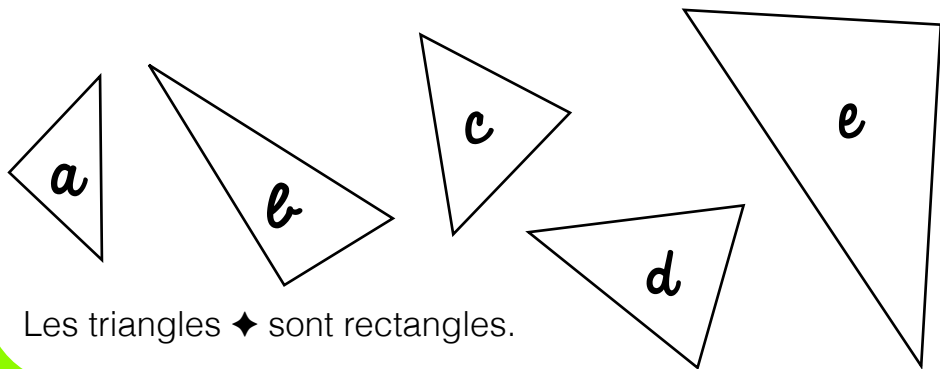
Géométrie

2a

Entraînement
ceinture verte



Cherche des angles droits dans ces triangles.



Les triangles ♦ sont rectangles.

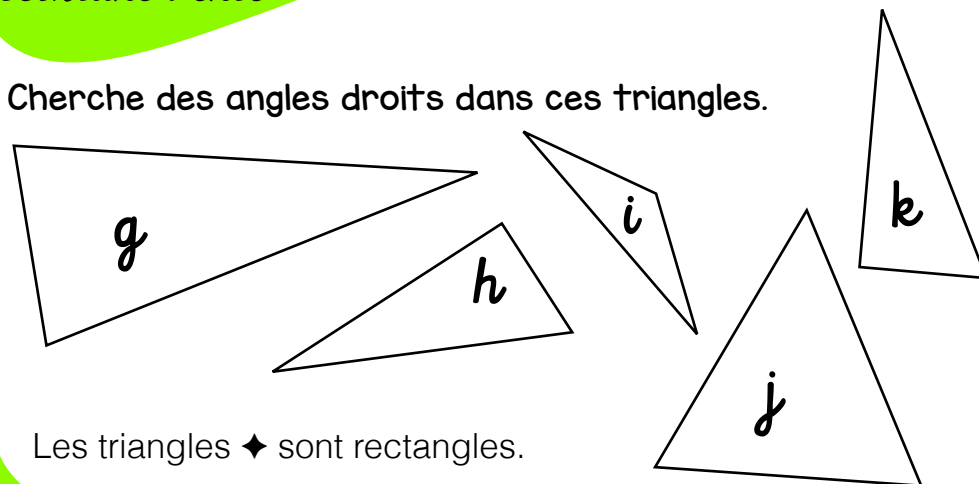
Géométrie

2b

Entraînement
ceinture verte



Cherche des angles droits dans ces triangles.



Les triangles ♦ sont rectangles.

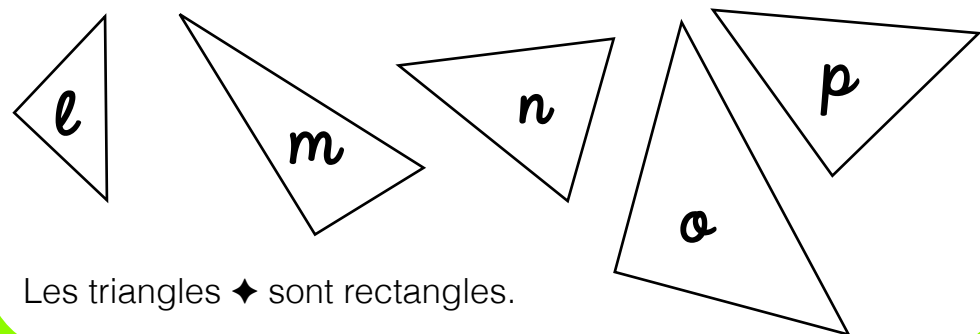
Géométrie

2c

Entraînement
ceinture verte



Cherche des angles droits dans ces triangles.



Les triangles ♦ sont rectangles.

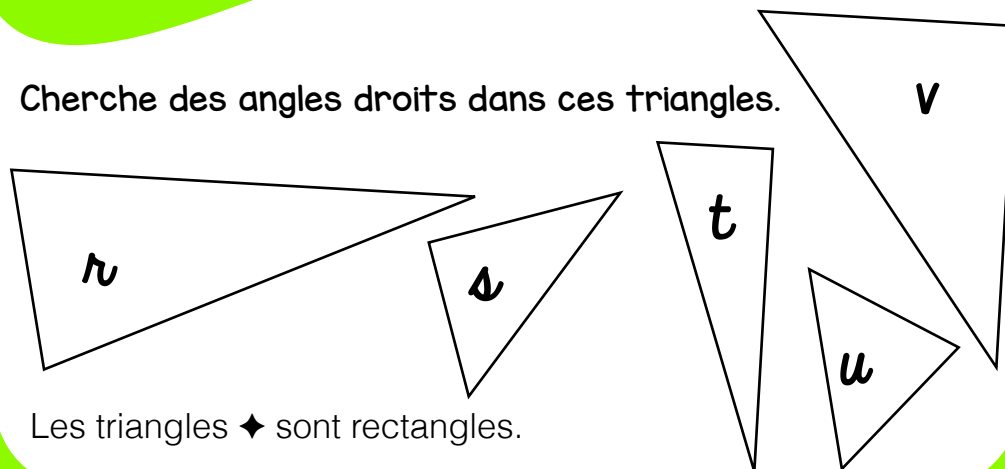
Géométrie

2d

Entraînement
ceinture verte



Cherche des angles droits dans ces triangles.



Les triangles ♦ sont rectangles.

Géométrie

3a

Entraînement
ceinture verte

1x↓ 2x← 2x↓ 1x→



Suis les flèches pour savoir
ce que va manger le renard.

- la sucette
- le hamburger
- les cerises
- l'épi de maïs
- la pizza

Le renard va manger ♦.

	A	B	C	D	E	F
1						
2						
3						
4						
5						
6						

Géométrie

3b

Entraînement
ceinture verte

1x← 2x↑ 2x→ 1x↓



Suis les flèches pour savoir
ce que va manger la souris.

- la sucette
- le gruyère
- l'avocat
- le pain
- la pizza

La souris va manger ♦.

	A	B	C	D	E	F
1						
2						
3						
4						
5						
6						

Géométrie

3c

Entraînement
ceinture verte

1x↓ 3x← 2x↓ 3x→



Suis les flèches pour savoir
ce que va manger le lion.

- le gigot
- la côtelette
- l'avocat
- le pain
- le biberon

Le lion va manger ♦.

	A	B	C	D	E	F
1						
2						
3						
4						
5						
6						

Géométrie

3d

Entraînement
ceinture verte

1x↑ 4x→ 2x↓ 1x← 1x↑



Suis les flèches pour savoir
ce que va manger la baleine.

- le homard
- le dauphin
- l'avocat
- le poulpe
- le poisson

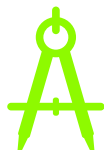
La baleine va manger ♦.

	A	B	C	D	E	F
1						
2						
3						
4						
5						
6						

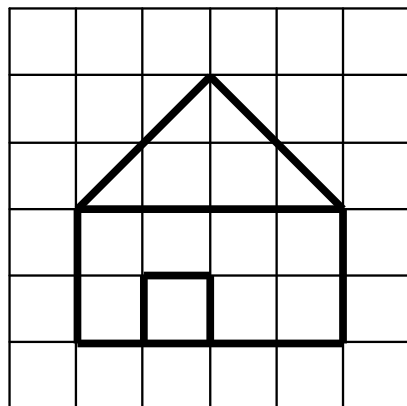
Géométrie

4a

Entraînement
ceinture verte



Reproduis cette figure.
(Aide-toi des carreaux
de ton cahier).



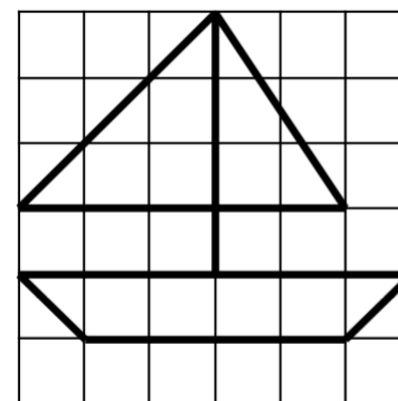
Géométrie

4b

Entraînement
ceinture verte




Reproduis cette figure.
(Aide-toi des carreaux
de ton cahier).



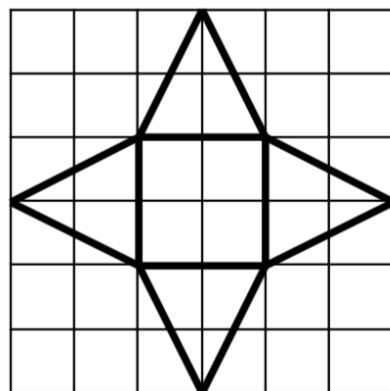
Géométrie

4c

Entraînement
ceinture verte



Reproduis cette figure.
(Aide-toi des carreaux
de ton cahier).



Géométrie

4d

Entraînement
ceinture verte



Reproduis cette figure.
(Aide-toi des carreaux
de ton cahier).

